

Zoru Sevenlere

SORU BANKASI

OFF-ROAD
SERİSİ

5.
SINIF



Türkçe
Matematik
Fen Bilimleri
Sosyal Bilgiler
Din Kültürü ve Ahlak Bilgisi
İngilizce

PISA - TIMMS
Sözel Yetenek
Sayısal Yetenek
Muhakeme - Akıl Yürütme
Grafik - Tablo Okuma
Görsel Yorumlama

SEN-ÜİTAD
YAYINLARI

zoru Sevenlere

SORU BANKASI

OFF-ROAD
SERİSİ

5.
SINIF

Selçuk ÇETİN



SOSYAL BİLGİLER

PISA - TIMSS

Sözel Yetenek

Muhakeme - Akıl Yürütme

Grafik - Tablo Okuma

Görsel Yorumlama

SON VİRAJ
YAYINLARI

122
SORU

» ÖN SÖZ «

Sevgili Öğrenciler,

Son Viraj Yayınları olarak hedefi yüksek olan öğrencilere rehber olmak ve onların başarı seviyesini yükseltmek için yola çıktık. Değişen sınav sistemiyle birlikte ortaya çıkan yeni nesil sorularla kitaplarımızı oluşturarak sizleri bu sınavlara en iyi şekilde hazırlamayı istiyoruz.

Kitaplarımızı hazırlarken Talim ve Terbiye Kurulu Başkanlığı tarafından yayımlanan öğretim programlarındaki kazanımları esas alıyoruz. Soruları bu kazanımlar çerçevesinde hazırlıyor, tüm kazanımlara kitaplarımızda yer veriyoruz. Bunu yaparken kazanım dışına asla çıkmıyoruz. Testleri mantık, muhakeme, analiz, sentez gerektiren sorularla oluşturuyoruz. Yeni nesil olarak adlandırılan bu tip sorularla öğrencilerimizin analitik düşünerek bilgilerini günlük hayata aktarabilmelerini amaçlıyoruz. Sorular hazırlanırken PISA ve TIMSS sorularını örnek alıyoruz.

Bloom taksonomisine uygun olarak “tam öğrenme” modeliyle hazırladığımız özet konu anlatım, uygulama, kavrama, analiz-sentez, ünite değerlendirme testi ve analiziyle oluşturduğumuz “Drift Serisi” öğrencilerimizi bilgi düzeyinden sentez düzeyine çıkarıyor. Kolaydan zora şeklinde hazırlanan bu testler sayesinde başarı basamaklarını kolaylıkla aşacağınızı düşünüyoruz.

Son Viraj Yayınları olarak bu sınavda en iyi dereceyi elde etmeniz için **OFF-ROAD** adlı ürünle karşınıza çıkıyoruz. Eserimizdeki testler ünite değerlendirme sınavı tarzında hazırlanmıştır. Bu sayede ünitelerin her bir kazanımına yer verilmiştir. Soruların tamamı MEB’in yayınladığı örnek sorulara ve LGS sorularına göre hazırlanmıştır.

Son Viraj Yayınları ile çıktığınız bu yolculukta hedefinize ulaşmanızı diliyor, size bu yolda rehberlik yapmaktan onur duyuyoruz.

Selim AKGÜL
Genel Yayın Yönetmeni

» İÇİNDEKİLER «

SOSYAL BİLGİLER

1. ÜNİTE	: Birey ve Toplum	3
2. ÜNİTE	: Kültür ve Miras	6
3. ÜNİTE	: İnsanlar, Yerler ve Çevreler.....	12
4. ÜNİTE	: Bilim, Teknoloji ve Toplum	17
5. ÜNİTE	: Üretim, Dağıtım ve Tüketim.....	20
6. ÜNİTE	: Etkin Vatandaşlık.....	25
7. ÜNİTE	: Küresel Bağlantılar.....	28
Cevap Anahtarı.....		31



1. Aynı toprak üzerinde yaşayan ve aynı devlete vatandaşlık bağı ile bağlı olan kişilere vatandaş adı verilir. Vatandaşların, bağlı olduğu devlete karşı sorumlulukları olduğu gibi devletin de vatandaşlara sağladığı haklar vardır. Haklarını ve sorumluluklarını bilen ve bunlara göre hareket eden kişiler etkin birer vatandaşdır.

Buna göre etkin vatandaşlarla ilgili;

- I. Vergisini düzenli olarak öder.
- II. Haklarını bilir ve gerektiğinde kullanır.
- III. Ülke yönetimine katkı sağlar.

yargılarından hangileri söylenebilir?

- A) Yalnız I. B) I ve II.
C) II ve III. D) I, II ve III.

2. Sosyal bilgiler dersi;

- Türk milletine ait bağımsızlık ve egemenlik unsurlarını öğretir.
- İlgi, istek ve yeteneklerimizin farkına varmamızı sağlar.
- Eleştirel düşünmeyi ve kendi kararlarımızı verebilmemizi sağlar.

Verilen bilgilere göre sosyal bilgiler dersinin faydalarıyla ilgili;

- I. Bireyleri toplumsal yaşama hazırlar.
- II. Bireylerin kendilerini tanımalarına yardımcı olur.
- III. Bireylerin ülkelerine bağlılığını artırır.

yargılarından hangilerine ulaşılabilir?

- A) Yalnız I. B) I ve II.
C) II ve III. D) I, II ve III.

3. Sosyal bilgiler dersi birlikte yaşama ve yardımlaşmanın önemini anlamamızı sağlar.

Aşağıdaki görsellerden hangisi anlatılan durumu örneklendirmektedir?



Aşevi



Doğa



Cami



İnternet

4. Sosyal bilgiler dersi bireylerin hak ve sorumluluklarını bilmesini ve ona göre davranmalarını sağlar. Aşağıda sosyal bilgilerin faydalarıyla ilgili bazı bilgiler verilmiş ve bu bilgiler Aykut tarafından doğru ya da yanlış şeklinde değerlendirilmiştir.

Sosyal bilgilerin faydaları	Aykut'un değerlendirmesi
Türk tarihinin öğretilmesini sağlar.	D
Demokratik yaşam kurallarını öğretir.	Y
Hak ve sorumlulukların öğrenilmesini sağlar.	D
Çevreye verilen zararı artırır.	Y

Not: Her doğru cevap için (+10) puan, her yanlış cevap için (-5) puan alınacaktır.

Buna göre Aykut yaptığı değerlendirmeye göre toplam kaç puan almıştır?

- A) 5 B) 10 C) 25 D) 40



5. Meydana gelen bir trafik kazasından sadece kazayı yapan kişiler etkilenmez. Kazayı yapan kişilerin aileleri, olayın gerçekleştiği yerdeki insanlarda bu durumdan etkilenmektedir.

Buna göre trafik kazalarıyla ilgili aşağıdakilerden hangisi söylenebilir?

- A) Etki alanı çok geniştir.
B) Çok boyutlu özellik gösterir.
C) Kazaya karışanlarda olumlu etkiler oluşturur.
D) Ülke ekonomisine katkı sağlar.

6. Aile, toplumun en küçük birimi olarak kabul edilmektedir. Temel ihtiyaçlarımızı ailelerimizin yardımıyla karşılarız.

Buna göre 5. sınıf öğrencisi olarak ailemize karşı;

- I. ödevlerimizi yapmak,
II. odamızı toplamak,
III. sofranın hazırlanmasına yardım etmek

gibi sorumluluklarımızdan hangileri bulunmaktadır?

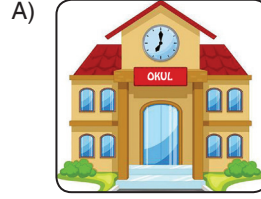
- A) Yalnız I. B) I ve II.
C) II ve III. D) I, II ve III.

7. Meydana gelen olaylar, bireyler üzerinde farklı etkilere neden olabilmektedir.

Aşağıdakilerden hangisi anlatılan durumu örneklendirmektedir?

- A) Turizm geliştiği bir yerde bazılarının yeni iş imkânları oluşurken, bazıları ise kalabalıktan rahatsız olmaktadır.
B) Piknik alanlarına giden insanlar çevreyi kirletmektedir.
C) Sokak hayvanları insanlara zarar vermektedir.
D) Araç sayısının fazlalığı yoğun trafik oluşturmaktadır.

8. Aşağıdaki görsellerden hangisi eğitim ihtiyacımızın karşılandığı kuruma örnek olarak gösterilebilir?




Okul



Hastane



Karakol



Fabrika

9. Bir işi sonuçlandırmak için neyin, ne zaman yapılacağına önceden düzenlenmesine plan denir. Görev ve sorumluluklarımızı yerine getirirken planlı çalışmak önemlidir.

Buna göre planlı çalışmak bireylere;

- I. başarıyı getirme,
II. düzen sağlama,
III. zamanını verimli kullanma

gibi katkılardan hangilerini sağlamaktadır?

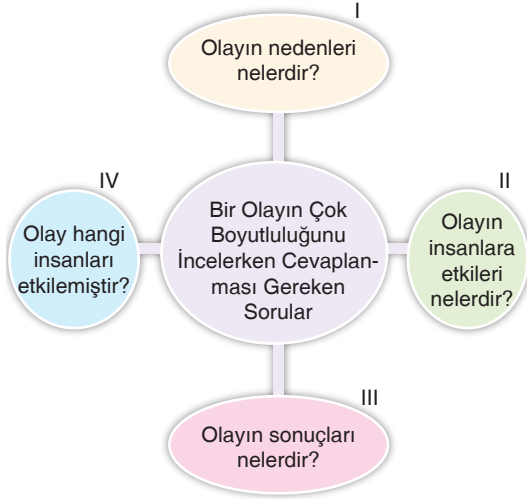
- A) Yalnız I. B) I ve II.
C) II ve III. D) I, II ve III.

10. Birleşmiş Milletlerin Çocuk Haklarına Dair Sözleşmesi'nde, çocuğa uygulanabilecek olan kanuna göre daha erken yaşta reşit olma durumu hariç, on sekiz yaşına kadar her insan çocuk sayılır.

Buna göre çocukların aşağıdaki haklarından hangisine sahip olduğu söylenemez?

- A) Yaşama hakkı B) Güvenlik hakkı
C) Çalışma hakkı D) Sağlık hakkı

11.



Diyagramda verilen bilgilere göre meydana gelen bir trafik kazasında IV numarayla gösterilen yere aşağıdakilerden hangisi yazılmalıdır?

- A) Alkollü araç kullanmak
- B) Araç içerisinde bulunanları
- C) Yaralanmaların ortaya çıkması
- D) Kurallara uymama

12. Toplumu oluşturan insanlardan her birine birey denir. Günlük yaşamımızda birey olarak tek başımıza hareket edebileceğimiz gibi katıldığımız gruplarla birlikte de hareket edebiliriz. Ortak bir amaç için bir araya gelen, aralarında etkileşim olan, en az iki kişiden oluşan topluluğa grup denir.

Buna göre Ali'nin yer aldığı;

- I. aile,
- II. akrabalar,
- III. sınıf arkadaşları

gruplarından hangileri içerisinde yer alan kişiler arasında yakınlık derecesi daha yüksektir?

- A) Yalnız I.
- B) I ve II.
- C) II ve III.
- D) I, II ve III.

13. Spor sayesinde farklı kültür ve düşüncelerden insanlar bir araya gelerek etkileşimde bulunur. Okul spor takımlarında başkalarıyla iş birliği yapmayı öğreniriz.

- Müzik kulübünde arkadaşlarımızla dostça ilişkiler kurmayı, birbirimizi dinlemeyi öğreniriz.
- Resim kulübünde duygu ve düşüncelerimizi sanat yoluyla aktarabilmeyi ve kültürel değerlerimizi öğreniriz.

Buna göre spor, müzik, resim gibi etkinliklerin bireye olan katkılarıyla ilgili aşağıdakilerden hangisi söylenebilir?

- A) Bireylerin sosyalleşmesine katkı sağlar.
- B) Toplumda kargaşa ortamı oluşturur.
- C) İnsanların dışlanmasına yardımcı olur.
- D) Ön yargıların oluşmasını sağlar.

14. Aşağıda bazı grup ve kurumlar verilmiş ve bunlar içerisinde sahip olunabilecek roller Ayşe tarafından söylenmiştir.

Grup veya kurum	Ayşe'nin söylediği roller
Okul	Torun
Aile	Çocuk
Müzik grubu	Solist
Futbol takımı	Kaleci

Not: Her doğru cevap için (+10) puan, her yanlış cevap için (-5) puan alınacaktır.

Buna göre Ayşe söylediği rollerin değerlendirilmesiyle ilgili toplam kaç puan almıştır?

- A) 5
- B) 10
- C) 25
- D) 40

1. Tarih boyunca birçok uygarlığa ev sahipliği yapmış olan Anadolu ve Mezopotamya'nın her köşesi bir kültür hazinesidir. Bu toprakların yüzyıllar öncesine dayanan geçmişini arkeolojik kazılardan ve bilimsel çalışmalardan öğreniyoruz. Yapılan kazılarda çömlekler, heykeller, sikkeler, mozaikler gibi birçok bulgu elde edilmektedir.

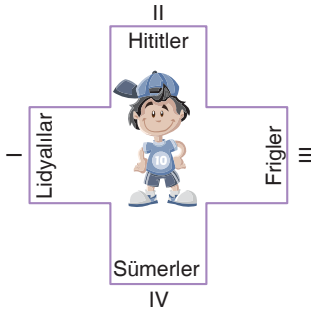
Buna göre yapılan kazılar sonucunda medeniyetlerin;

- I. kültürel özellikleri,
- II. yaşam biçimleri,
- III. ekonomik durumları

bilgilerinden hangilerine ulaşılabilir?

- A) Yalnız I.
- B) I ve II.
- C) II ve III.
- D) I, II ve III.

2.



Yukarıdaki görselde Arda, Mezopotamya'da yaşamış medeniyete doğru gidecektir.

Buna göre Arda'nın kaç numaralı yöne doğru gitmesi gerekir?

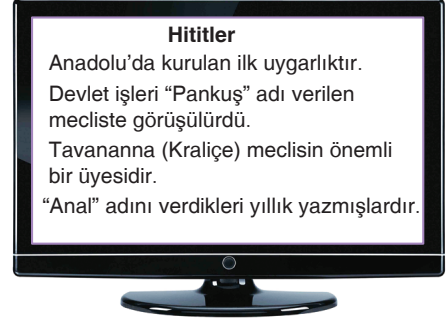
- A) I.
- B) II.
- C) III.
- D) IV.

3. Sümerlerin en önemli buluşu yazıdır. Çivi yazısı denilen bu yazı ilk önce kil tabletler üzerine kazınmış sonraları günümüzdeki kaleme benzer bir aletle yazılmıştır.

Parçadaki bilgilere bakılarak Sümerlerle ilgili aşağıdakilerden hangisi söylenebilir?

- A) Bilginin saklanabilir olmasını sağlamışlardır.
- B) Ekonominin çeşitlenmesine neden olmuşlardır.
- C) Önemli bir askerî güç olmuşlardır.
- D) Farklı kültürlerden etkilenmişlerdir.

4.



Yukarıdaki televizyon haberine bakılarak Hititlerle ilgili hangisine ulaşamaz?

- A) Kadınlar devlet yönetimine katılmıştır.
- B) Devlet meseleleri konusunda farklı kişilerin görüşü alınmaktadır.
- C) Devlet işlerine kadınlar sokulmamıştır.
- D) Tarih yazıcılığına katkı sağlamışlardır.

5. Lidyalılar, bugünkü Gediz ve Küçük Menderes ırmakları arasındaki bölgede kurulmuşlardır. Tüccar bir toplum olan Lidyalılar ticaret sayesinde zenginleşmiş, rahat ve bolluk içinde yaşamışlardır. Lidyalıların dünya uygarlığına en önemli katkıları Kral yolunu yapmaları ve parayı ilk kez kullanmalarındır.

Parçadaki bilgilere göre Lidyalılarla ilgili;

- I. Ekonomik yapıları çok güçlüdür.
- II. Takas usulünü kaldıran bir gelişme sağlamışlardır.
- III. Ticareti geliştirmek için girişimlerde bulunmuşlardır.

yargılarından hangilerine ulaşılabilir?

- A) Yalnız I.
- B) I ve II.
- C) II ve III.
- D) I, II ve III.



11.

İstanbul Ağzı	Trakya Ağzı	Yozgat Ağzı
Napıyorsun?	Nabüün beya?	Nörüyoon?

Yukarıda verilenler incelendiğinde aynı kelimenin farklı yerlerde farklı şekillerde ifade edildiği görülmektedir.

Bu durum aşağıdakilerden hangisiyle açıklanabilir?

- A) Bölgeler arasında şive farkı olmasıyla
- B) Farklı ülkelerin kültürleri olmasıyla
- C) Yeraltı kaynaklarının farklı olmasıyla
- D) Yönetim şekillerin farklı olmasıyla

12.

GAZETE

Osmangazi Sosyal Yardımlaşma ve Dayanışma Vakfı tarafından belirlenen fakir ve ihtiyaç sahibi vatandaşlar, ekmeklerini ücretsiz olarak bu fırından temin edebilecek. Günde 12 bin ekmek üretilecek olan fırın bağış ve yardımlarla işletilecek.

Verilen gazete haberinde Türk toplumunun ortak değerleri olarak aşağıdakilerden hangisi vurgulanmaktadır?

- A) Dayanışma
- B) Sivil toplum
- C) Kalkınma
- D) Sabır

13.

Her nesil, kültürel değerlerini önceki nesillerden öğrenerek gelecek kuşaklara aktarır. Ancak, kültürel değerlerin nesilden nesile bir miras olarak aktarılması sırasında üzerine bir şeyler katarak kültürün zenginleşmesi sağlanmaktadır.

Verilen bilgilere bakılarak kültürle ilgili;

- I. Süreklilik göstermektedir.
- II. Aktarım sırasında değişme gösterir.
- III. Var olan zamana uyum sağlamaktadır.

yargılarından hangilerine ulaşılabilir?

- A) Yalnız I.
- B) I ve II.
- C) II ve III.
- D) I, II ve III.

14.



Merhaba arkadaşlar bu yaz tatilinde önce Denizli'ye, sonra İzmir'e oradan da Trabzon'a gittim. Buralardaki tarihi ve doğal güzellikleri gezdim.

Buna göre Azra aşağıdaki seçeneklerden hangisindeki yerleri görmüş olabilir?

- A) Pamukkale - Artemis Tapınağı - Sümela Manastırı
- B) Pamukkale - Balıklı Göl - Ayder Yaylası
- C) Palandöken Dağı - İshak Paşa Sarayı - Abant Gölü
- D) İhlara Vadisi - Peri Bacaları - Ayder Yaylası

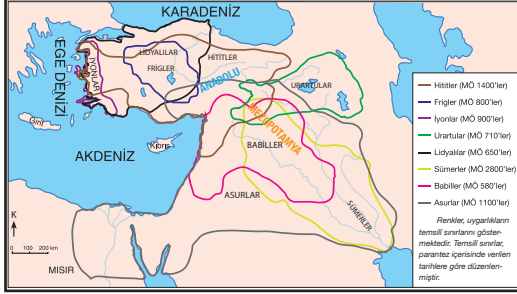
15.

Geçmişte yaşamış insan topluluklarının kalıntılarının bulunduğu, önceki dönemde yaşamış insanlardan kalan yapı ve alanlara tarihî eser denir.

Buna göre aşağıdaki görsellerden hangisi tarihi esere örnek oluşturmaz?



1. Aşağıdaki haritada Anadolu'da ve Mezopotamya'da kurulmuş olan uygarlıklar gösterilmiştir.



Buna göre haritaya bakılarak;

- Aynı topraklar farklı medeniyetler tarafından kullanılmıştır.
- Anadolu'da yaşamış olan uygarlık sayısı Mezopotamya'dan fazladır.
- En geniş sınırlara İyonlar ulaşmıştır.

yargılarından hangilerine ulaşılabilir?

- A) Yalnız I. B) I ve II.
C) II ve III. D) I, II ve III.

2. Urartular, Doğu Anadolu'da Van ve çevresinde kurulmuştur. Çok sayıda su bendi, sulama kanalı, kale ve yol yaparak şehirleşmeye büyük önem vermişlerdir. Şamran su kanalı 56 km uzunluğunda olup günümüzde hâlâ kullanılmaktadır. Maden işleme sanatında uzadırlar. Özellikle tunç kazanlar, yuvarlak tabanlı ve işlemelidir. Tunçtan yapılmış kılıç, kalkan, miğfer, mobilya, şamdan, heykel, fil dişinden yapılmış hayvan figürleri onlardan kalan nesnelere aittir.

Parçadaki bilgilere göre Urartular ile ilgili;

- Tarımı geliştirmek için faaliyetlerde bulunmuşlardır.
- Farklı mimari yapılar oluşturmuşlardır.
- Madencilikte gelişerek farklı ürünler yapmışlardır.

yargılarından hangilerine ulaşılabilir?

- A) Yalnız I. B) I ve II.
C) II ve III. D) I, II ve III.

3. Doğada insan eli değmeden oluşan, gezilip görülebilecek eşsiz güzellikteki yerler ve unsurlar doğal varlık olarak nitelendirilir. Geçmişte yaşamış insan topluluklarına ait kalıntıların bulunduğu yapı ve alanlara tarihî mekân adı verilmektedir.

Aşağıda ülkemizdeki bazı yerler verilmiş ve bu yerlerin doğal varlık ya da tarihî mekân oldukları Betül tarafından değerlendirilmiştir.

Yerler	Betül'ün değerlendirmesi
Manyas Kuş Cenneti	Doğal varlık
Safranbolu Evleri	Doğal varlık
Sümela Manastırı	Tarihî mekân
Uzungöl	Doğal varlık


Not: Her doğru cevap (+10) puan, her yanlış cevap (-5) puan olarak değerlendirilecektir.

Buna göre Betül yaptığı değerlendirme sonucunda toplam kaç puan almıştır?

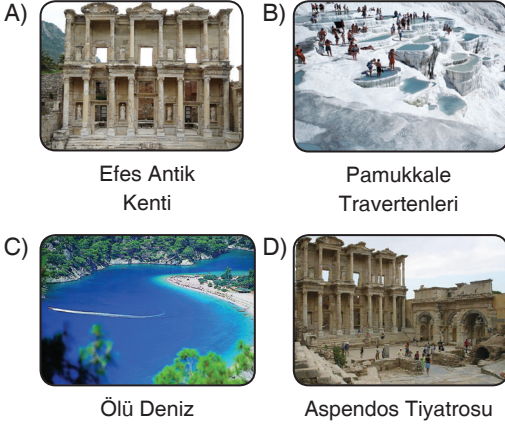
- A) -5 B) 10 C) 25 D) 40

4. Geçmişte yaşayan uygarlıklardan kalan kalıntı ve eserlere tarihî eser denir. Tarihî eserler geçmişe ışık tutmaktadır. Geçmişten bizlere kalan ve tarihî değer taşıyan eşyalar tarihî nesne olarak adlandırılır.

Buna göre aşağıdakilerden hangisi tarihî eşyalara örnek olarak gösterilebilir?



5. Aşağıdakilerden hangisi Ege Bölgesi'nin doğal varlıkları ve tarihî eserleri arasında yer almaz?



- 6.



Verilen görsellerin ortak özellikleri ile ilgili olarak;

- I. Kendiliğinden oluşmuşlardır.
II. Tarihî değere sahiptirler.
III. İnsanlar tarafından yapılmışlardır.
- ifadelerinden hangileri söylenebilir?

- A) Yalnız I. B) I ve II.
C) II ve III. D) I, II ve III.

Son Viraj

7. Gelenek ve göreneklerin yaşaması ve bir sonraki kuşağa aktarılması, toplum içerisinde etkileşimin güçlü olduğunun bir kanıtıdır. Çünkü komşuluk, misafirperverlik, asker uğurlama, imece ve daha birçok etkinlik, birden fazla kişi veya ailenin bir araya gelmesiyle, aynı amaç etrafında toplanmasıyla gerçekleşir. Misafirperverlik toplumumuzun en önemli özelliklerindedir. Ev sahibi, misafirlere güler yüzle davranır ve onları en iyi şekilde ağırlamaya çalışır. Misafirlere güzel ikramlarda bulunmak ve onları rahat ettirmeye çalışmak atalarımızdan kalma bir mirastır.

Parçadaki bilgilere bakılarak;

- I. Gelenek ve görenekler toplumda birlik olma bilincini güçlendirir.
II. Misafirperverlik, komşuluk gibi ilişkiler insanların kaynaşmasına yardımcı olmaktadır.
III. Gelenek ve görenekler zaman içerisinde değişkenlik göstermektedir.

yargılarından hangilerine ulaşılabilir?

- A) Yalnız I. B) I ve II.
C) II ve III. D) I, II ve III.

8. Ortak değerlerimiz, dinî ve millî bayramlarımız, vatan sevgimiz toplumda birlik ve beraberliğin sağlanması açısından önemlidir.

Aşağıda bazı bayramlarımız verilmiş ve bu bayramların millî ya da dinî oldukları Tuğba tarafından değerlendirilmiştir.

	Bayramlar	Tuğba'nın değerlendirmesi
I.	Ulusal Egemenlik ve Çocuk Bayramı	Dinî
II.	Zafer Bayramı	Millî
III.	Kurban Bayramı	Dinî
IV.	Cumhuriyet Bayramı	Millî

Buna göre Tuğba'nın yaptığı değerlendirmelerden hangileri doğrudur?

- A) I ve II. B) II ve III.
C) III ve IV. D) II, III ve IV.

9. Aşağıda yörelere göre oynanan bazı oyun türleri eşleştirilmiştir.

	Oyunlar	Yörelere
I.	Bar	Erzurum
II.	Zeybek	Aydın
III.	Horon	Trabzon
IV.	Çaydaçıra	Edirne

Buna göre eşleştirmelerden hangileri doğrudur?

- A) I ve II. B) II ve III.
C) III ve IV. D) I, II ve III.
10. Aşağıdaki tabloda doğal varlık, tarihî eser ve tarihî nesnelere verilmiştir.

Bedesten	Millî park	Heybe	Kitabe
Kese	Köprü	İbrik	Güğüm
Orman	Irmak	Medrese	Şelale

Buna göre tabloda yer alanlardan kaç tanesi doğal varlığa örnek gösterilebilir?

- A) 4 B) 6 C) 8 D) 10
11. Kültürel unsurlarımızdan biri de yemeklerimizdir. Et yemekleri ve hamur işleri Türk mutfağının temelini oluşturur. Ülkemizde iklim çeşitliliğinin fazla olması ve yer şekillerinin farklılaşması, yemek kültürünün değişmesine sebep olmuştur. Türk mutfağında genelde sulu yemekler yapılır. Başlangıç olarak çorba tercih edilir. Yemekten hemen sonra tatlı tüketilir. Aile üyeleri yer sofrası etrafında toplanır.

Parçadaki bilgilere bakılarak aşağıdaki sorulardan hangisinin cevabına ulaşılamaz?

- A) Bölgeler arasında yemek kültürü neden değişmektedir?
B) Türk mutfağında hangi türden yemekler daha fazla yapılır?
C) Et yemekleri en fazla hangi bölgede tüketilir?
D) Türk mutfağında hangi yemekler hangi sırayla tüketilir?

12. Bölgeler arasında yapılan farklı ekonomik faaliyetlere bağlı olarak farklı yemek kültürleri gelişme göstermiştir.

Aşağıda bazı yemek türleri verilmiş ve bunlar Kemal tarafından meşhur olduğu şehirlere göre değerlendirilmiştir.

Yemekler	Kemal'in değerlendirmesi
Hamsi tava	Trabzon
Baklava	Gaziantep
Çiğ köfte	Uşak
Mantı	Kayseri

Not: Her doğru cevap (+10) puan, her yanlış cevap (-5) puan olarak değerlendirilecektir.

Buna göre Kemal yaptığı değerlendirme sonucunda toplam kaç puan almıştır?

- A) 5 B) 10 C) 25 D) 40
13. Aşağıda kültürümüzle ilgili bazı bilgiler verilmiş ve bu bilgiler Merve tarafından doğru ya da yanlış olarak değerlendirilmiştir.

	Kültürümüzle ilgili bilgiler	Merve'nin değerlendirmesi
I.	Bayramlar, akrabaların kaynaşmasını sağlar.	D
II.	Ülkemizde bölgeler arasında kültürel farklılıklar yaşanmaktadır.	Y
III.	Kültürel değerler insanları birbirlerine yakınlaştırır.	D
IV.	İnsanlar bir arada yaşarken kültürel unsurlara ihtiyaç duymazlar.	Y

Buna göre Merve'nin yaptığı değerlendirmelerden hangileri doğrudur?

- A) I ve II. B) II ve III.
C) III ve IV. D) I, III ve IV.

1.



Yukarıda Türkiye fiziki haritasına bakılarak Türkiye'nin;

- I. dağlarına,
- II. akarsularına,
- III. platolarına,
- IV. nüfusuna

özelliklerinden hangilerine ulaşılabilir?

- A) I ve II.
- B) II ve III.
- C) I, II ve III.
- D) II, III ve IV.

2. Ülkemizin yer şekilleriyle ilgili aşağıda bazı bilgiler verilmiş ve bu bilgiler doğru ya da yanlış şeklinde Arda tarafından değerlendirilmiştir.

Türkiye'nin yer şekilleri ve özellikleri	Arda'nın değerlendirmesi
Ülkemizde batıdan doğuya doğru yükselti artmaktadır.	D
Türkiye üç tarafı denizlerle çevrili yarım adadır.	Y
Türkiye Fiziki Haritasında renkler yükselti basamaklarını göstermektedir.	D
Ülkemizin batısında dağlar kıyıya paralel uzanmaktadır.	Y

Not: Her doğru cevap (+10 puan), her yanlış cevap (-5 Puan) olarak değerlendirilecektir.

Buna göre Arda yaptığı değerlendirme sonucunda toplam kaç puan almıştır?

- A) -5
- B) 10
- C) 25
- D) 40

3. Yeryüzünün tamamının ya da bir bölümünün kuş bakışı görünüşünün belli oran dahilinde küçültülerek düzlem üzerine aktarılmasına harita denir.

Buna göre bir çizimin harita özelliği gösterebilmesi için;

- I. Tepeden görünüşü olmalıdır.
- II. Ölçeğinin bulunması gerekmektedir.
- III. Düzlem üzerine aktarılmalıdır.

özelliklerinden hangileri gereklidir?

- A) Yalnız I.
- B) I ve II.
- C) II ve III.
- D) I, II ve III.

4. 5. sınıf öğrencisi Aylin, Türkiye fiziki haritasını inceleyen rengarenk olduğunu görmüş ve özellikle Marmara Bölgesi'nin neden yeşil renkle gösterildiğini merak etmiştir.

Aylin bu durumu öğretmenine sorduğunda aşağıdaki cevaplardan hangisini almıştır?

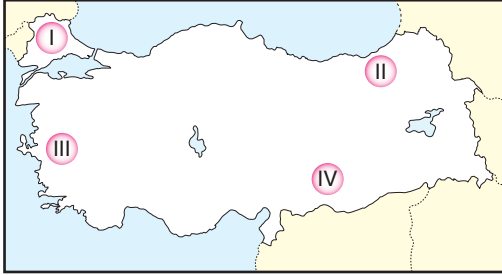
- A) Yükseltisi az olduğu için
- B) Orman alanları geniş yer kapladığı için
- C) Sanayi merkezleri yoğun olduğu için
- D) Nüfus yoğunluğu fazla olduğu için

5. Dünya'yı saran atmosfer tabakasında çeşitli hava olayları meydana gelmektedir. Kar, dolu ve yağmurun yağması, rüzgârın esmesi, fırtına ve sisin oluşması hava olaylarına örnektir. Bu olaylar insanların günlük yaşamlarını etkilemektedir.

Buna göre aşağıdakilerden hangisi iklimin insan yaşantısına doğrudan etkisine örnek oluşturur?

- A) Bitki örtüsünün çeşitlenmesini sağlar.
- B) Akarsuların taşıdığı su miktarını değiştirir.
- C) Hava olaylarına göre kıyafetlerin değişmesine neden olur.
- D) Orman alanlarının dağılışını belirler.


6. Karadeniz ikliminde yazlar serin, kışlar ılık her mevsim yağışlı özellikler görülmektedir.



Buna göre haritada gösterilen yerlerden hangilerinde Karadeniz iklim özelliklerinin görüldüğü söylenebilir?

- A) I ve II. B) II ve III.
C) II ve IV. D) III ve IV.

7.



Yukarıda verilen görselde;

- I. dağ,
II. ada,
III. plato,
IV. vadi

yer şekillerinden hangilerinin yer aldığı söylenebilir?

- A) I ve II. B) II ve III.
C) I, II ve III. D) I, II, III ve IV.

8. Ülkemizde nüfusun en fazla olduğu yerler Marmara Denizi'nin çevresindedir. Bunda Asya ve Avrupa kıtalarının burada birbirine bağlanması, sanayi, ticaret, turizm, bankacılık, madencilik ve ulaşımın gelişmiş olması, verimli arazilerin bulunması etkindir. Yeryüzü şekillerinin fazla engebeli olmaması ulaşımı kolaylaştırır. Böylece üretilen mallar, yurt içinde ve yurt dışında kolayca pazarlanır. Verimli ovaların akarsularla sulanması ve iklimin elverişli olması, yüksek kalitede ürün alınmasını sağlar. İstanbul, ülkemizin en kalabalık şehridir. Çerkezköy ile Adapazarı arasında binlerce fabrika ve tesis vardır. Doğal güzellikler ve tarihî değerler, turizmin gelişmesinde etkindir.

Parçadaki bilgilere bakılarak;

- I. Marmara çevresinde ekonomik faaliyetler çeşitlilik göstermektedir.
II. Marmara'da ulaşımın gelişmesi yer şekillerine bağlıdır.
III. Sanayi tesisleri bölgede nüfusun azalmasına neden olmuştur.

yargılarından hangilerine ulaşılabilir?

- A) Yalnız I. B) I ve II.
C) II ve III. D) I, II ve III.

9.



Buna göre haritaya bakılarak;

- I. İç bölgelerde kışlar soğuk ve kar yağışlı geçmektedir.
II. Kıyı kesimlerde yazlar sıcak ve kurak geçmektedir.
III. Ülkemizin batısında kışlar ılık geçmektedir.

yargılarından hangilerine ulaşılabilir?

- A) Yalnız I. B) I ve II.
C) I ve III. D) I, II ve III.



10. Akdeniz ve Ege kıyılarında yaz aylarında sıcaklık yüksektir. Bu durum Akdeniz ve Ege kıyılarına turizm yatırımı yapılmasını sağlamış ve yaz turizmi gelişmiştir. Turizm sektörünün gelişmesi bu çevrede iş imkanlarını arttırmıştır.

Parçada verilen bilgilere bakılarak;

- I. İklim insanların ekonomik faaliyetlerini etkilemektedir.
II. İş imkanlarının geliştiği yerlerde bitki örtüsü gürdür.
III. Turizm bölgelerinde iklime bağımlılık azdır.

yargılarından hangilerine ulaşılabilir?

- A) Yalnız I. B) I ve II.
C) II ve III. D) I, II ve III.

11. Ülkemizde bina yapı malzemeleri bölgelerimizde görülen iklim tipine göre değişmektedir. Karadeniz'de ahşap, karasal iklimde toprak ve kerpiç, Akdeniz'de taş malzemeler kullanılmaktadır.

Buna göre iklimlere göre konutların yapı malzemesinin değişmesiyle ilgili aşağıdakilerden hangisi söylenebilir?

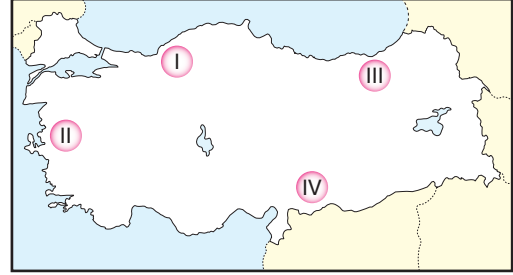
- A) Konutların yapı malzemesi ekonomik kazançla ilgilidir.
B) İklimin nüfus üzerine etkisi yoktur.
C) Konutların yapı malzemesi doğal çevreden etkilenir.
D) Konutların yapı malzemesi devlet kontrolündedir.

12. Semiha İsen Ortaokulu sosyal bilgiler öğretmeni öğrencilerine Ağrı, Nemrut, Süphan, Tendürek dağlarının ve Van Gölü'nün yer aldığı bölgenin fiziki haritasının çizilmesi ödevini vermiştir.

Buna göre çizdikleri bölgeleri söyleyen aşağıdaki öğrencilerden hangisi doğru ödevi yapmıştır?

- A) **Leyla:** Ege Bölgesi
B) **Mehtap:** Doğu Anadolu Bölgesi
C) **Ali:** İç Anadolu Bölgesi
D) **Kenan:** Karadeniz Bölgesi

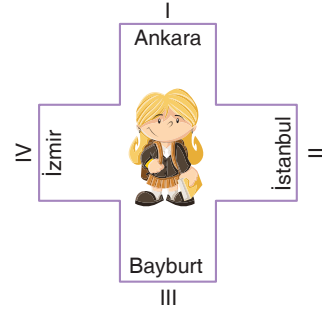
13. Tarım ürünleri iklim şartlarına bağlı olarak bölgelere göre farklılık göstermektedir.



Buna göre haritada gösterilen yerlerden hangisinde çay, fındık, mısır gibi tarım ürünlerinin üçünün de yetiştiği söylenebilir?

- A) I. B) II. C) III. D) IV.

14. Sınırları belli bir alan içinde yaşayan insan sayısına nüfus denir.



Buna göre şekildeki öğrenci nüfusun seyrek olduğu yere gitmek isterse hangi yöne gitmelidir?

- A) I. B) II. C) III. D) IV.

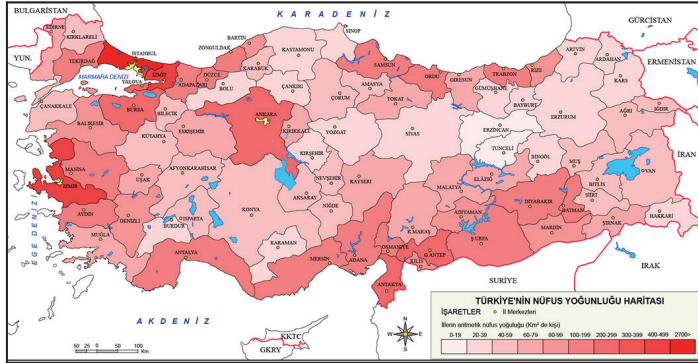
15. Merhaba arkadaşlar! Ben Azra, Adana'da yaşıyorum. (I) Adana'nın Akdeniz'e kıyısı vardır. (II) Adana ve çevresinde dağlar kıyıya paralel uzanır. (III) Kıyıdan iç kesimlere doğru gidildikçe yükselti artar. (IV) Yaşadığım yerde Toros Dağları, Bakırçay, Gediz ve Büyük Menderes Nehirleri yer almaktadır.

Azra'nın anlatımında kaç numarayla belirtilen yerde yanlış bilgi yer almaktadır?

- A) I. B) II. C) III. D) IV.



1. Aşağıda Türkiye'nin illerinin gösterildiği harita verilmiştir.



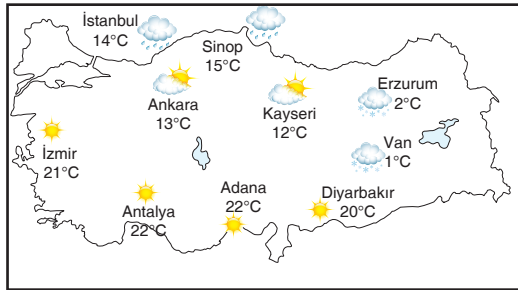
Haritaya bakılarak;

- I. Büyük şehirlerde nüfus yoğunudur.
- II. İstanbul'da sanayi merkezleri yoğunudur.
- III. İzmir'in nüfus yoğunluğu Eskişehir'den fazladır.

yargılarından hangilerine ulaşılabilir?

- A) Yalnız I. B) I ve II. C) I ve III. D) I, II ve III.

2. Aşağıda Türkiye'nin 13 Aralık 2018 tarihindeki hava durumu verilmiştir.



Buna göre haritaya bakılarak;


- I. Ülkemizin batısı ve güney kıyıları güneşli geçmektedir.
- II. Ülkemizin doğusunda kar yağışı görülmektedir.
- III. Karadeniz kıyıları yağmurludur.

yargılarından hangilerine ulaşılabilir?

- A) Yalnız I. B) I ve II. C) II ve III. D) I, II ve III.

3. İnsan elinin değmediği, kendi kendine yetebilen, farklı bitkiler ve hayvanlara ev sahipliği yapan ortamlara doğal ortam denir. İnsanlar yaşamlarını sürdürmek için doğal ortamları değiştirerek ondan yararlanırlar.

Buna göre aşağıda verilenlerden hangisi insanların doğal ortamı değiştirmesine örnek gösterilemez?



Son Viraj